

Nazwa kwalifikacji: **Eksploatacja maszyn, urządzeń i instalacji elektrycznych**
Oznaczenie kwalifikacji: **ELE.05**
Numer zadania: **01**
Wersja arkusza: **SG**

Wypełnia zdający

Numer PESEL zdającego*

--	--	--	--	--	--	--	--	--	--	--	--	--	--	--	--	--	--	--	--

Miejsce na naklejkę z numerem
PESEL i z kodem ośrodka

Czas trwania egzaminu: **180** minut.

ELE.05-01-21.06-SG

EGZAMIN ZAWODOWY

Rok 2021

CZĘŚĆ PRAKTYCZNA

**PODSTAWA PROGRAMOWA
2019**

Instrukcja dla zdającego

1. Na pierwszej stronie arkusza egzaminacyjnego wpisz w oznaczonym miejscu swój numer PESEL i naklej naklejkę z numerem PESEL i z kodem ośrodka.
2. Na KARCIE OCENY w oznaczonym miejscu przyklej naklejkę z numerem PESEL oraz wpisz:
 - swój numer PESEL*,
 - oznaczenie kwalifikacji,
 - numer zadania,
 - numer stanowiska.
3. Sprawdź, czy arkusz egzaminacyjny zawiera 12 stron i nie zawiera błędów. Ewentualny brak stron lub inne usterki zgłoś przez podniesienie ręki przewodniczącemu zespołu nadzorującego.
4. Zapoznaj się z treścią zadania oraz stanowiskiem egzaminacyjnym. Masz na to 10 minut. Czas ten nie jest wliczany do czasu trwania egzaminu.
5. Czas rozpoczęcia i zakończenia pracy zapisze w widocznym miejscu przewodniczący zespołu nadzorującego.
6. Wykonaj samodzielnie zadanie egzaminacyjne. Przestrzegaj zasad bezpieczeństwa i organizacji pracy.
7. Po zakończeniu wykonania zadania pozostaw arkusz egzaminacyjny z rezultatami oraz KARTĘ OCENY na swoim stanowisku lub w miejscu wskazanym przez przewodniczącego zespołu nadzorującego.
8. Po uzyskaniu zgody zespołu nadzorującego możesz opuścić salę/miejsce przeprowadzania egzaminu.

Powodzenia!

* w przypadku braku numeru PESEL – seria i numer paszportu lub innego dokumentu potwierdzającego tożsamość

Zadanie egzaminacyjne

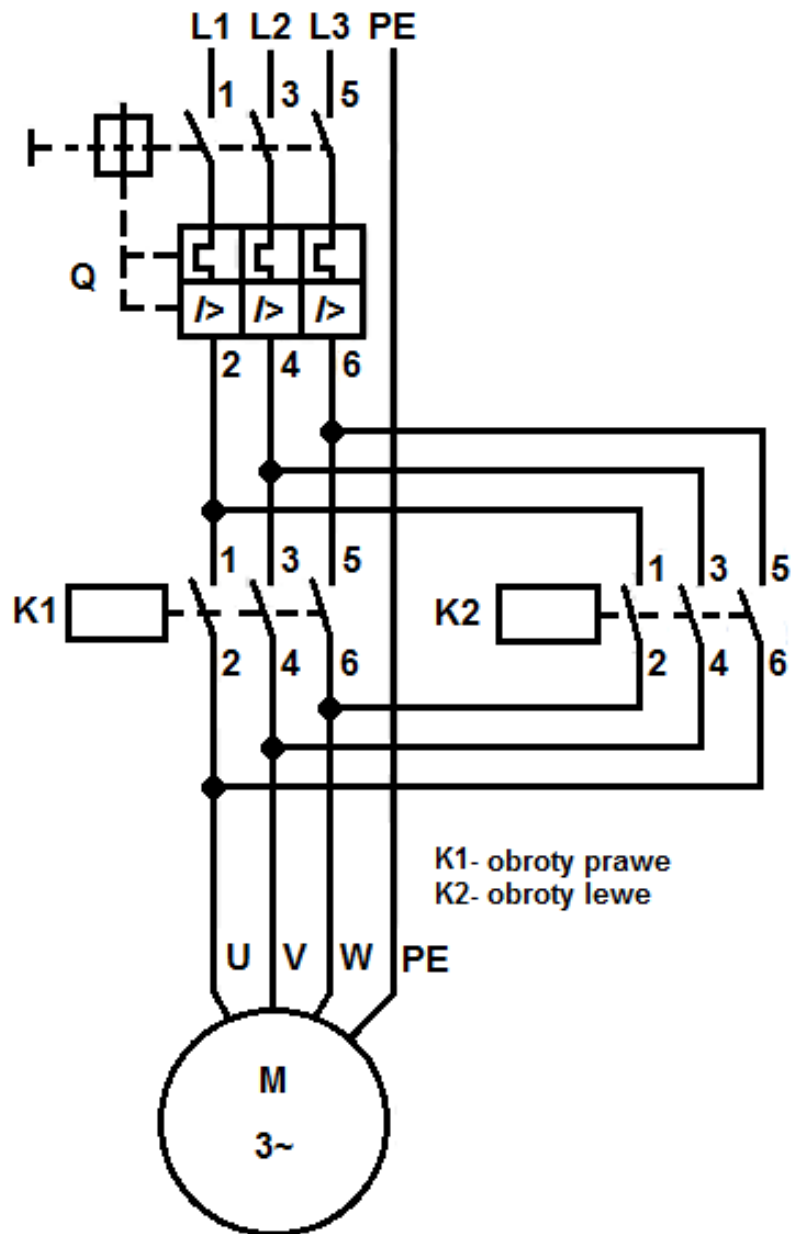
Podczas pracy bębnowego mieszalnika pasz, którego schematy elektryczne przedstawiono na rysunkach 1 i 2, stwierdzono niepoprawne działanie obwodów elektrycznych oraz błędną nastawę prądową wyłącznika silnikowego. Urządzenie zasilane jest z sieci 3×400 V, a jego bęben jest napędzany silnikiem indukcyjnym klatkowym o mocy znamionowej 1,5 kW i prędkości synchronicznej 1 500 obr./min. Silnik powinien obracać się naprzemiennie w prawo i lewo po jednej minucie w każdym kierunku. Między zmianą kierunku wirowania silnik powinien pozostać wyłączony przez 20 s. Urządzenie powinno się wyłączyć samoczynnie po 40 minutach od uruchomienia przyciskiem Pz.

W układzie zastosowano lampki kontrolne H1, H2, H3 w wykonaniu LED i stwierdzono poprawność ich działania po zasileniu ich napięciem znamionowym.

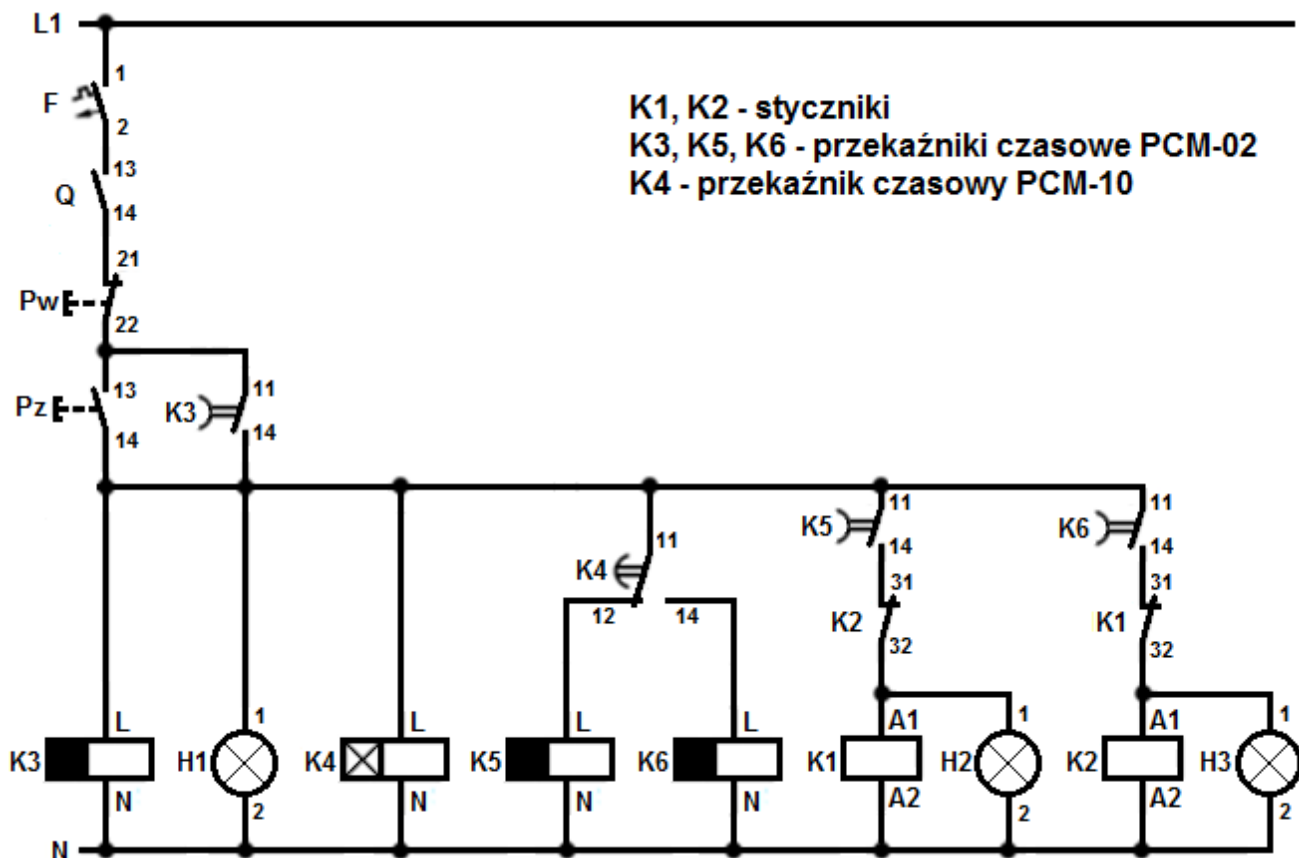
Sprawność układów elektronicznych przekaźników czasowych K3, K4, K5 i K6 układu stwierdzono poprzez obserwację kontrolki zasilania po zasileniu zacisków L i N napięciem znamionowym oraz obserwację kontrolki stanu przekaźników po odliczeniu nastawionego czasu.

1. Opisz działanie układu na podstawie analizy schematu obwodu głównego i obwodu sterowania dla przekaźnika czasowego K4 pracującego w trybie pracy MODE C.
2. Zapisz ustawienia nastawy czasu przekaźników tak, aby urządzenie działało zgodnie z założonymi wymaganiami.
3. Oblicz i zapisz wartość oraz jednostkę nastawy prądu wyzwalacza przeciążeniowego wyłącznika silnikowego, aby poprawnie zabezpieczał silnik w czasie pracy.
4. Zinterpretuj wyniki pomiarów i uzupełnij ostatnie kolumny w tabelach 2, 3, 4 i 5.
5. Wykryj usterki w obwodzie elektrycznym urządzenia oraz sporządź wykaz miejsc i rodzajów uszkodzeń.
6. Sporządź wykaz narzędzi, przyrządów pomiarowych, urządzeń i materiałów, których należy użyć w celu lokalizacji i usunięcia usterek.

Do wykonania zadania wykorzystaj schematy obwodu głównego (Rysunek 1) oraz obwodu sterowania (Rysunek 2), parametry eksploatacyjne silników indukcyjnych klatkowych (Tabela 1), instrukcje obsługi przekaźników czasowych PCM-10 i PCM-02 oraz wyniki wykonanych pomiarów zapisane w tabelach 2, 3, 4 i 5.



Rysunek 1. Schemat obwodu głównego

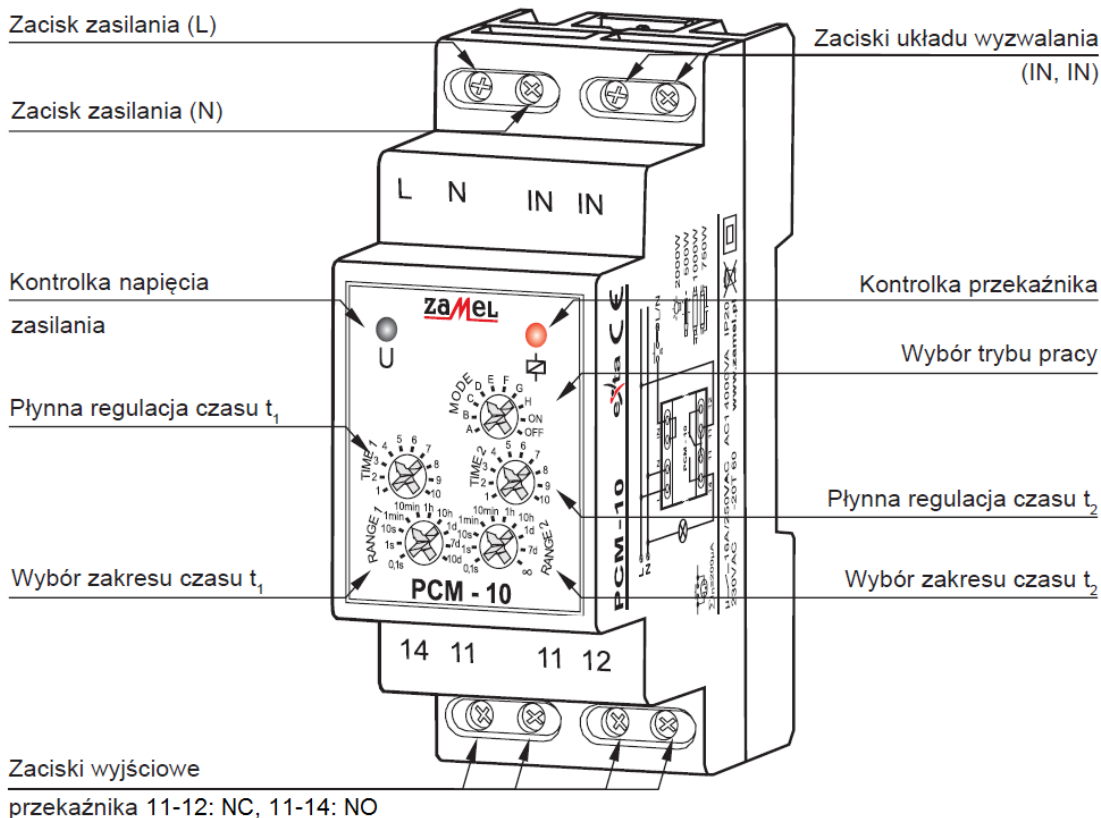


Rysunek 2. Schemat obwodu sterowania

Tabela 1. Parametry eksploatacyjne silników indukcyjnych klatkowych

Typ	Moc znamionowa kW	Prędkość synchroniczna 1/min	Prędkość obrotowa 1/min	Napięcie znamionowe V	Połączenie uzwojeń -	Prąd znamionowy A	Ilość biegunów -	Częstotliwość napięcia zasilania Hz
WU-DA80MJ IE2 2P 0,75kW	0,75	3 000	2 880	230/400	Δ/Y	2,85/1,65	2	50
WU-DA80MM IE2 2P 1,1kW	1,1	3 000	2 880	230/400	Δ/Y	4,1/2,35	2	50
WU-DA90SMX IE2 2P 1,5kW	1,5	3 000	2 850	230/400	Δ/Y	5,15/2,97	2	50
WU-DA80MS IE2 4P 0,75kW	0,75	1 500	1 440	230/400	Δ/Y	3,3/1,9	4	50
WU-DA90SRX IE2 4P 1,1kW	1,1	1 500	1 425	230/400	Δ/Y	4,4/2,5	4	50
WU-DA90LWX IE2 4P 1,5kW	1,5	1 500	1 440	230/400	Δ/Y	6,5/3,7	4	50
WU-DA90LTX IE2 6P 0,75kW	0,75	1 000	935	230/400	Δ/Y	3,8/2,2	6	50
WU-DA90LWX IE2 6P 1,1kW	1,1	1 000	925	230/400	Δ/Y	5,3/3	6	50
WU-DA100LUW IE2 6P 1,5kW	1,5	1 000	930	230/400	Δ/Y	7,3/4,2	6	50

WYGLĄD

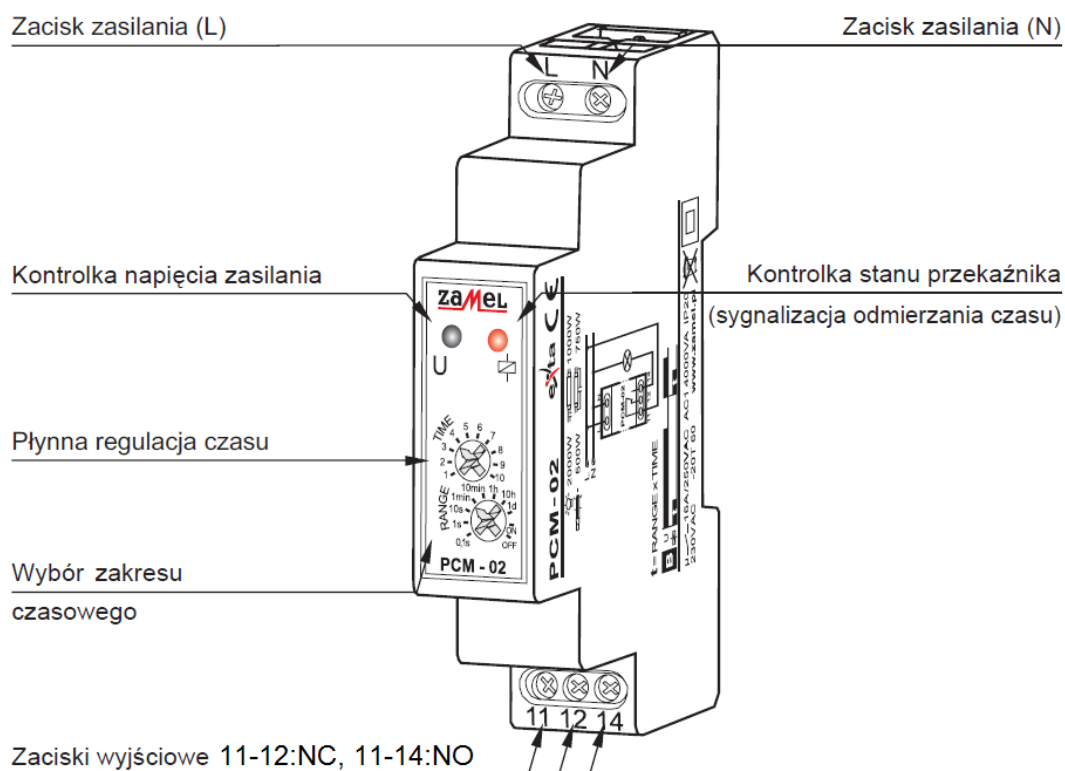


DZIAŁANIE

Wyzwalanie napięciem zasilającym:

		<p>OPÓŹNIONE ZAŁĄCZANIE – Po podaniu napięcia zasilającego zostaje odliczony czas t_1. Po upływie tego czasu następuje załączenie przekaźnika (poz. 11-14) na czas t_2. Kolejna realizacja cyklu nastąpi w momencie wyłączenia i ponownego załączenia napięcia zasilającego.</p>
		<p>OPÓŹNIONE WYŁĄCZANIE – Po podaniu napięcia zasilającego przekaźnik zostaje natychmiast załączony (poz. 11-14) i rozpoczyna się odliczanie czasu t_1. Po upływie tego czasu nastąpi wyłączenie przekaźnika (poz. 11-12) na czas t_2 oraz ponowne jego załączenie. Kolejna realizacja cyklu nastąpi w momencie wyłączenia i ponownego załączenia napięcia zasilającego.</p>
		<p>CYKLICZNE PRZEŁĄCZANIE (zaczynając od wyłączenia) – Po podaniu napięcia zasilającego zostaje odliczony czas t_1. Po upływie tego czasu następuje załączenie przekaźnika (poz. 11-14) na czas t_2 oraz ponowne wyłączenie (poz. 11-12) na czas t_1. Cykliczna praca układu trwa do momentu wyłączenia napięcia zasilającego.</p>
		<p>CYKLICZNE PRZEŁĄCZANIE (zaczynając od załączenia) – Po podaniu napięcia zasilającego przekaźnik zostaje natychmiastowo załączony (poz. 11-14) na czas t_1. Po upływie tego czasu następuje wyłączenie przekaźnika (poz. 11-12) na czas t_2 oraz ponowne jego załączenie na czas t_1. Cykliczna praca układu trwa do momentu wyłączenia napięcia zasilającego.</p>
		<p>STAŁE ZAŁĄCZANIE – Po zasileniu układu przekaźnik zostaje załączony na cały czas. Przy wyborze tego trybu nie mają znaczenia nastawy czasu t_1 oraz t_2.</p>
		<p>STAŁE WYŁĄCZENIE – Po zasileniu układu przekaźnik jest wyłączony przez cały czas. Przy wyborze tego trybu nie mają znaczenia nastawy czasu t_1 oraz t_2.</p>

WYGLĄD



DZIAŁANIE



OPÓŹNIONE WYŁĄCZANIE – po podaniu napięcia zasilającego przekaźnik zostaje natychmiast załączony (poz. 11-14) i rozpoczyna się odliczanie czasu t . Po upływie tego czasu nastąpi wyłączenie przekaźnika (poz. 11-12). Kolejna realizacja trybu nastąpi w momencie wyłączenia i ponownego załączenia napięcia zasilającego.

Czas przeznaczony na wykonanie zadania wynosi 180 minut.

Ocenię podlegać będzie 5 rezultatów:

- opis działania układu na podstawie analizy schematu obwodu głównego i obwodu sterowania,
- ustawienia przekaźników czasowych i obliczona wartość prądu wyzwalacza przeciążeniowego,
- interpretacja wyników pomiarów (uzupełnione tabele 2, 3, 4 i 5),
- wykaz miejsc i rodzajów uszkodzeń w obwodzie sterowania i głównym,
- wykaz narzędzi, przyrządów pomiarowych, urządzeń i materiałów potrzebnych do lokalizacji i usunięcia usterek.

Opis działania układu na podstawie analizy schematu obwodu głównego i obwodu sterowania
(uzupełnij brakujące wpisy lub wybierz poprawny zapis)

1	<p>Włączenie zasilania układu następuje po załączeniu</p> <p align="right"><i>(podaj nazwę urządzenia oraz oznaczenie na schemacie)</i></p> <p>oraz</p> <p align="right"><i>(podaj nazwę urządzenia oraz oznaczenie na schemacie)</i></p>
2	<p>W celu uruchomienia układu należy nacisnąć przycisk</p> <p>Powoduje to uruchomienie przekaźnika K, jego styki K (.....,) zostaną zwarte / rozwarte* zapewniając podtrzymanie zasilania układu.</p>
3	<p>Po podaniu napięcia na cewkę przekaźnika czasowego K..... jego styki K..... (.....,) i K (.....,) będą załączały się cyklicznie.</p>
4	<p>Po podaniu napięcia na cewkę przekaźnika czasowego K5 jego styki K (.....,) zostaną zwarte / rozwarte* co spowoduje załączenie / wyłączenie* stycznika K Po nastawionym czasie na przekaźniku K5, jego styki K (.....,) zostaną zwarte / rozwarte*, co spowoduje załączenie / wyłączenie* stycznika K</p>
5	<p>Po odmierzeniu czasu t1 przez przekaźnik K4 jego styki zostaną przełączone, co spowoduje wyłączenie przekaźnika K i załączenie przekaźnika K</p>
6	<p>Po podaniu napięcia na cewkę przekaźnika czasowego K6 styki K (.....,) zostaną zwarte / rozwarte* co spowoduje załączenie / wyłączenie* stycznika K Po nastawionym czasie na przekaźniku K6, jego styki K (.....,) zostaną zwarte / rozwarte*, co spowoduje załączenie / wyłączenie* stycznika K</p>
7	<p>Po załączeniu stycznika K1 wał silnika obraca się w, a po załączeniu stycznika K2 w</p>
8	<p>Mieszalnik wyłączy się po upływie nastawionego czasu na przekaźniku K lub po naciśnięciu przycisku</p>
9	<p>Do blokady wzajemnej styczników wykorzystane są styki zwierne / rozwierne* K..... (.....,) i K (.....,).</p>
10	<p>Świecenie lampki sygnalizuje załączenie urządzenia.</p> <p>Świecenie lampki sygnalizuje obroty prawe silnika.</p> <p>Świecenie lampki sygnalizuje obroty lewe silnika.</p>

* **niepotrzebne skreślić**

Ustawienia przekaźników czasowych

Przekaźniki PCM-02		
Oznaczenie na schemacie	RANGE (Zakres czasu)	TIME (Mnożnik zakresu czasu)
K3		
K5		
K6		

Przekaźnik PCM-10			
Oznaczenie na schemacie	MODE (Tryb pracy)	RANGE 1 (Zakres czasu t_1)	TIME 1 (Mnożnik zakresu czasu t_1)
K4	C		
		RANGE 2 (Zakres czasu t_2)	TIME 2 (Mnożnik zakresu czasu t_2)

Obliczenie wartości prądu wyzwalacza przeciążeniowego wyłącznika silnikowego

Tabela 2. Pomiary ciągłości połączeń przed naprawą (w nawiasie oznaczenie zacisku urządzenia)

Lp.	Pomiar na odcinku	Wartość wskazana przez omomierz w Ω	Ocena ciągłości: Wpisz: „+”, gdy zachowana jest ciągłość lub „-”, gdy brak jest ciągłości
1	Zasilanie L1, F(1)	0,3	
2	F(2), Q(13)	0,2	
3	Q(14), Pw(21)	0,2	
4	Pw(22), Pz(13), K3(11)	0,3	
5	Pz(14), K3(14), K3(L), H1(1), K4(L), K4(11), K5(11), K6(11)	0,2	
6	K4(12), K5(L)	0,1	
7	K4(14), K6(L)	0,3	
8	K5(14), K2(31)	∞	
9	K2(32), K1(A1), H2(1)	0,3	
10	K6(14), K1(31)	0,2	
11	K1(32), K2(A1), H3(1)	0,1	
12	Zasilanie N, K3(N), H1(2), K4(N), K5(N), K6(N), K1(A2), H2(2), K2(A2), H3(2)	0,2	
13	L1, Q(1)	0,1	
14	L2, Q(3)	0,2	
15	L3, Q(5)	0,2	
16	Q(2), K1(1), K2(1)	0,3	
17	Q(4), K1(3), K2(3)	0,3	
18	Q(6), K1(5), K2(5)	0,2	
19	K1(2), K2(6), U	0,2	
20	K1(4), K2(4), V	0,1	
21	K1(6), K2(2), W	0,1	
22	PE, zacisk PE silnika	95	

Tabela 3. Rezystancja uzwojeń i izolacji silnika

	Miejsce wykonania pomiaru	Wartość wskazana przez omomierz w Ω	Ocena sprawności elementu Wpisz: „+”, gdy wartość jest właściwa lub „-”, gdy wartość świadczy o uszkodzeniu
Rezystancja uzwojeń silnika	U1 – V1	15,0	
	V1 – W1	15,1	
	W1 – U1	15,0	
		Wartość wskazana przez miernik rezystancji izolacji w $M\Omega$	
Rezystancja izolacji między uzwojeniami a obudową silnika przy rozłączonych uzwojeniach	U – PE	1 000	
	V – PE	900	
	W – PE	1 000	

Tabela 4. Rezystancje cewek styczników

Lp.	Cewka stycznika	Wartość wskazana przez omomierz w $k\Omega$	Ocena sprawności elementu: Wpisz: „+”, gdy wartość jest właściwa lub „-”, gdy wartość świadczy o uszkodzeniu
1	K1	0,05	
2	K2	2,41	

Tabela 5. Rezystancja zestyków

Lp.	Umiejscowienie zestyku	Stan aparatu	Wartość wskazana przez omomierz w Ω	Ocena sprawności zestyku: Wpisz: „+”, gdy wartość jest właściwa lub „-”, gdy wartość świadczy o uszkodzeniu
1	F	Załączony	0,1	
		Wyłączony	∞	
2	Q(13,14)	Załączony	0,2	
		Wyłączony	∞	
3	Pw	Wciśnięty	∞	
		Niewciśnięty	0,2	
4	Pz	Wciśnięty	0,2	
		Niewciśnięty	∞	
5	K3(11,14)	Załączony	0,2	
		Wyłączony	∞	
6	K4(11,12)	Załączony	∞	
		Wyłączony	0,1	
7	K4(11,14)	Załączony	0,2	
		Wyłączony	∞	
8	K5(11,14)	Załączony	0,2	
		Wyłączony	0,2	
9	K2(31,32)	Załączony	0,1	
		Wyłączony	0,1	
10	K6(11,14)	Załączony	0,2	
		Wyłączony	∞	
11	K1(31,32)	Załączony	∞	
		Wyłączony	0,2	
12	Q(1,2)	Załączony	0,2	
		Wyłączony	∞	
13	Q(3,4)	Załączony	0,1	
		Wyłączony	∞	
14	Q(5,6)	Załączony	0,2	
		Wyłączony	∞	
15	K1(1,2)	Załączony	0,1	
		Wyłączony	0,1	
16	K1(3,4)	Załączony	0,2	
		Wyłączony	∞	
17	K1(5,6)	Załączony	0,2	
		Wyłączony	∞	
18	K2(1,2)	Załączony	0,1	
		Wyłączony	∞	
19	K2(3,4)	Załączony	0,2	
		Wyłączony	∞	
20	K2(5,6)	Załączony	0,1	
		Wyłączony	∞	

Uwaga:

Zestyki styczników w stanie „Załączony” zostały zmierzone po symulowanym ręcznym ich załączeniu fabrycznymi przyciskami testującymi.

Zestyki przekaźników czasowych w stanie „Załączony” zostały zmierzone po ustawieniu: dla PCM-10 trybu pracy „MODE” w pozycji „ON”, dla PCM-02 zakresu czasowego „RANGE” w pozycji „ON” oraz zasileniu przekaźników (zaciski L, N) napięciem znamionowym („Kontrolka napięcia zasilania” oraz „Kontrolka stanu przekaźnika” świeciły podczas pomiaru).

Wykaz miejsc i rodzajów uszkodzeń w obwodzie sterowania i głównym

Lp.	Nazwa urządzenia lub miejsce uszkodzenia z odniesieniem do oznaczeń na schematach (np.: zestyk stycznika K..... (.... ,))	Rodzaj uszkodzenia (np.: zwarcie, przerwa, styki trwale połączone, skorodowane lub niedokręcone połączenie)
1		
2		
3		
4		
5		
6		
7		

Wykaz narzędzi, przyrządów pomiarowych, urządzeń i materiałów potrzebnych do lokalizacji i usunięcia usterek

Wykaz narzędzi:
Wykaz przyrządów pomiarowych:
Wykaz urządzeń i materiałów (podaj również ilość):

